

تلخيص شامل بالإضافة لحل أسئلة الدروس

# مادة العلوم

## الصف السابع

الوحدة السابعة : الضوء

الفصل الدراسي الثاني



إعداد المعلمة

هبة العبيدي

المنهاج الجديد

٢٠٢٠-٢٠٢١



تلاخيص مناهج أردني

تلاخيص مناهج أردني - سؤال وجواب

من نحن

### تلاخيص مناهج أردني - سؤال وجواب

- أول وأكبر منصة تلاخيص مطبوعة بشكل إلكتروني و مجانية.
- تعنى المنصة بتوفير مختلف المواد الدراسية بشكل مميز ومناسب للطالب وتهتم بتوفير كل ما يخص العملية التعليمية للمناهج الأردني فقط.
- تأسست المنصة على يد مجموعة من المعلمين والمتطوعين في عام ٢٠١٨م وهي للإنتفاع الشخصي من قبل الطلاب أو المعلمين.
- لمنصة تلاخيص فقط حق النشر على شبكة الإنترنت ومواقع التواصل سواء ملفات المصورة PDF أو صور تلك الملفات ويسمح بمشاركتها أو نشرها من المواقع الأخرى بشرط حفظ حقوق الملكية للملخصات من اسم المعلم وشعار الفريق.

إدارة منصة فريق تلاخيص

يمكنكم التواصل معنا من خلال



تلاخيص مناهج أردني - سؤال وجواب



talakheesjo@gmail.com



المنسق الإعلامي أ. معاذ أمجد أبو يحيى 0795360003





الدرس 11

الضوء : مفهومه وخصائصه

سؤال ؟

كيف ينتقل الضوء ؟

ينتقل الضوء على شكل موجات تنتشر في الاتجاهات جميعها من دون الحاجة إلى وسط ينقلها تسمى موجات كهرومغناطيسية .

☺ إذ يمكن لموجات الضوء الانتقال عبر الفراغ كما في الفضاء الخارجي فنحن نرى النجوم على الرغم من عدم وجود وسط ينقل ضوءها إلينا .

سؤال ؟

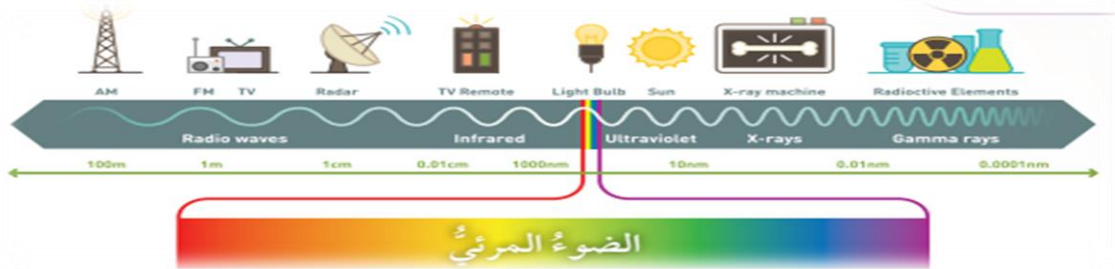
كيف تتوزع الموجات الكهرومغناطيسية ؟

على شكل طيف يسمى الطيف الكهرومغناطيسي .

سؤال ؟

ما هي أقسام الموجات الكهرومغناطيسية ؟

الأشعة فوق البنفسجية – الأشعة السينية – الأشعة تحت الحمراء – موجات المايكرويف – موجات الراديو – الضوء المرئي ( يشمل ألوان الطيف المرئي )



سؤال ؟

اذكر خصائص الضوء ؟

- 1- سرعة الضوء عالية ( تُعد سرعته أعلى سرعة تمكّن العلماء من قياسها فهو يستطيع أن يقطع مسافات كبيرة خلال مدة زمنية قصيرة )
- 2- ينتقل الضوء عبر الأوساط الشفافة ( لذا ينفذ الضوء خلال الزجاج الشفاف بينما لا ينفذ خلال الأجسام المعتمة ، وعند سقوطه عليها فإنها تمتص جزءاً منه وينعكس عن سطحها الجزء المتبقي منه .
- 3- ينتقل الضوء في خطوط مستقيمة ( فهو يسلك أقصر مسار بين نقطتين في الوسط المتجانس ونتيجة لذلك تتكون الظلال للأجسام عندما يحجب الجسم أشعة الضوء عن منطقة معينة .

☺ عند سقوط الضوء على سطح ما ، فإن جزءاً منه يرتد عن السطح .

سؤال ؟

ما هو انعكاس الضوء ؟

هو ارتداد الضوء عن سطح ما عند سقوطه عليه .

سؤال ؟

ما نوعا الانعكاس ؟

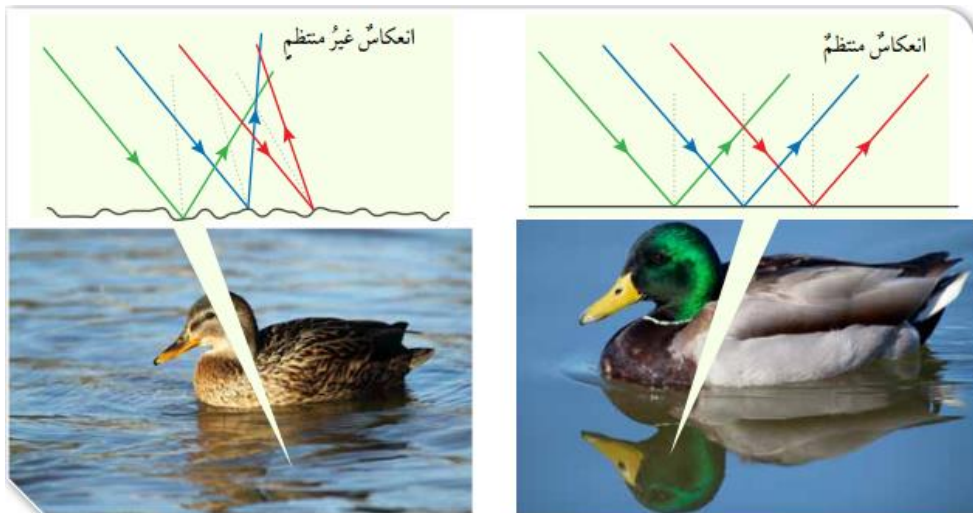
انعكاس منتظم - انعكاس غير منتظم

انعكاس غير منتظم	انعكاس منتظم
تنعكس فيه الأشعة الضوئية التي تسقط متوازية عن السطوح الخشنة غير المصقولة مثل السطوح الخشبية باتجاهات مختلفة .	تنعكس فيه الأشعة الضوئية التي تسقط متوازية عن السطوح العاكسة المصقولة مثل : المرايا باتجاه واحد متوازية مع بعضها .

سؤال ؟

كيف تحدث عملية الإبصار ؟

تحدث عملية الإبصار عند وصول الأشعة الضوئية المنعكسة عن الجسم إلى العين ثم تنتقل رسائل عصبية إلى مراكز محددة في الدماغ حيث تتم ترجمة هذه الرسائل إلى صور وأشكال . ويسبب الانعكاس المنتظم عن السطوح المصقولة تكوّن صور للأجسام فيها .





سؤال؟

ما هي مكونات انعكاس الضوء ؟  
شعاع ساقط - شعاع منعكس - عمود المقام

سؤال؟

ما هو العمود المقام ؟  
وهو خط وهمي عمودي على السطح العاكس عند نقطة السقوط .

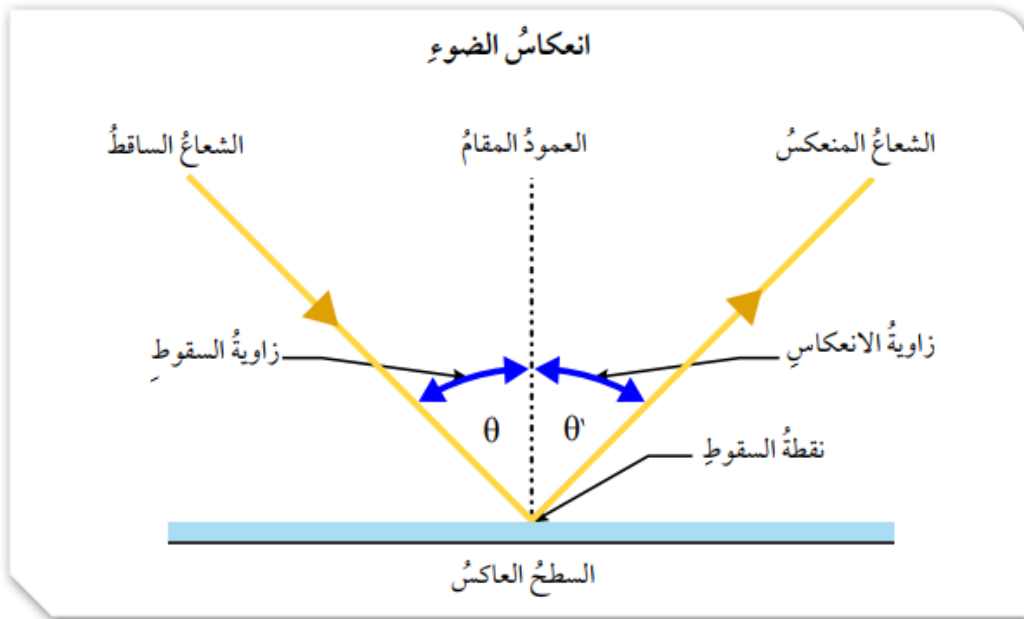
سؤال؟

ما هي زاوية السقوط ؟  
هي الزاوية المحصورة بين الشعاع الساقط والعمود المقام على السطح العاكس عند نقطة السقوط .

سؤال؟

ما هي زاوية الانعكاس ؟  
هي الزاوية المحصورة بين الشعاع المنعكس والعمود المقام على السطح العاكس عند نقطة السقوط .

ينطبق قانونا الانعكاس على الانعكاس المنتظم وغير المنتظم .





## سؤال ؟

ما هو نص قانون الانعكاس الأول ؟

الاشعاع الساقط والاشعاع المنعكس والعمود المقام على السطح العاكس عند نقطة السقوط تقع جميعها في مستوى واحد عمودي على السطح العاكس .

## سؤال ؟

ما هو نص قانون الانعكاس الثاني ؟

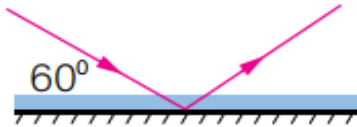
زاوية السقوط ( $\theta$ ) تساوي زاوية الانعكاس ( $\theta'$ ) .

## مثال 1

من دراستي الشكل المجاور:

أ. أحدد زاوية الانعكاس على الشكل.

ب. أجد مقدار كل من زاوية السقوط وزاوية الانعكاس.



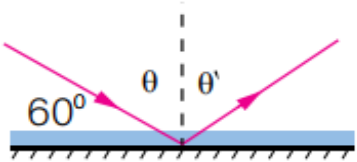
الحل:

أ. عند نقطة السقوط، أرسم عمودًا مقامًا على السطح العاكس؛ فتكون زاوية الانعكاس محصورةً بينه وبين الأشعاع المنعكس.

$$\text{ب. } \theta = 90 - 60 = 30^\circ$$

بتطبيقي قانون الانعكاس الثاني؛ فإن:

$$\theta = \theta' = 30^\circ$$



## مثال 2

من دراستي الشكل المجاور، أحدد على الرسم كلًا من زاوية السقوط

وزاوية الانعكاس، ثم أجد مقدار كل منهما.

الحل:

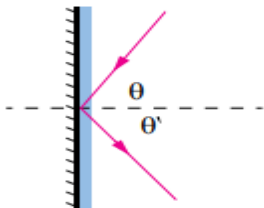
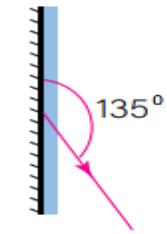
أرسم عمودًا مقامًا عند نقطة السقوط، فيكون الأشعاع الساقط هو الأشعاع المتجه نحو المرآة، بحيث تكون زاويته مع العمود المقام مساوية للزاوية بين الأشعاع المنعكس والعمود المقام.

أحدد كلًا من زاوية السقوط وزاوية الانعكاس.

$$\theta = 135 - 90 = 45^\circ$$

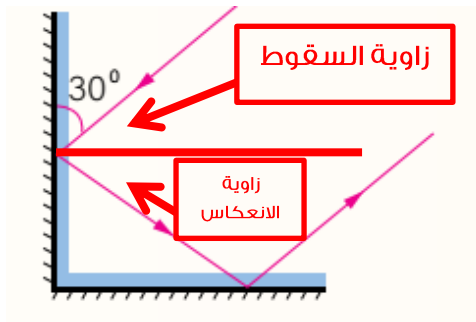
بتطبيقي قانون الانعكاس الثاني:

$$\theta = \theta' = 45^\circ$$



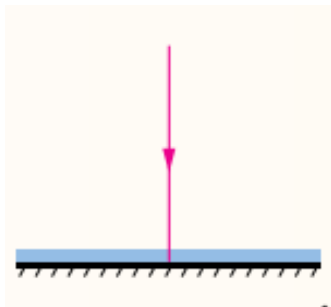


1. أعدد بعض أقسام الطيف الكهرمغناطسي .  
الأشعة فوق البنفسجية – الأشعة السينية – الأشعة تحت الحمراء – موجات المايكرويف – موجات الراديو – الضوء المرئي ( يشمل ألوان الطيف المرئي )
2. أطرِح سؤالاً تكون إجابته : الضوء .  
من هو الذي ينتقل في خطوط مستقيمة ؟
3. أفسر :  
أ. نستطيع رؤية قاع الحوض المحتوى على الماء .  
لأن الضوء ينتقل عبر الأوساط الشفافة والماء وسط شفاف فيسمح برؤية قاع الحوض .  
ب. تتكون ظلال للأجسام المعتمة .  
يسير الضوء في خطوط مستقيمة، وعند اعتراض أي جسم معتم مسار الضوء القادم من أحد مصادره المختلفة في اتجاه واحد فإن هذا الجسم يعمل على احتجاز الضوء عن منطقة معينة، وينشأ مكان مظلم يتخذ شكل الجسم المعتم، والذي يُسمى الظل.  
ج. من الصعب تصميم تجربة لقياس سرعة الضوء .  
لأنه يستطيع أن يقطع مسافات كبيرة خلال مدة زمنية قصيرة
4. أحدد كلا من زاوية السقوط وزاوية الانعكاس على كل سطح عاكس في الشكل الآتي ، وأحسب قيمة كل منها :



زاوية السقوط = زاوية الانعكاس

$$\theta = 90 - 30 = 60$$



زاوية السقوط = زاوية الانعكاس = 90



5. أصنف الانعكاسات عن سطوح الأجسام الآتية ، إلى منتظمة وغير منتظمة :

أ. سطح البحر : منتظمة

ب. اللباس المدرسي : غير منتظمة

ج. معلقة فلزية مصقولة : منتظمة

6. التفكير الناقد : كيف نستطيع رؤية الجسم الشفاف ، على الرغم من أن الضوء

ينفذ خلاله .

لأن جزء من الأشعة الساقطة تنعكس وتكون خيال للجسم فنراه



## الدرس 2

### تطبيقات على انعكاس الضوء

تعد المرايا من السطوح المصقولة التي ينعكس الضوء عنها انعكاساً منتظماً .

عند وضع جسم أمام مرآة فسيكون له خيال تعتمد صفاته على :  
1. نوع المرآة 2. وبُعد الجسم عنها .

#### سؤال ؟

ما هي أنواع المرايا ؟  
المرايا المستوية - المرايا الكروية

#### سؤال ؟

ما هي المرايا المستوية ؟  
هي سطوح مستوية غير منحنية وملساء ومصقولة .

#### سؤال ؟

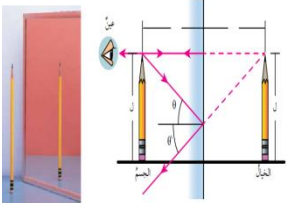
لماذا إذا وقفت أمام مرآة مستوية سيبكون لك خيال ؟  
لأن الأشعة الضوئية الساقطة على جسمك ينعكس جزء منه وينتشر في كل الاتجاهات وعند وصوله إلى سطح المرآة تنعكس عنها انعكاساً منتظماً فيتكوّن خيالي في المرآة .

#### سؤال ؟

ما هي صفات الخيال المتكون للجسم في المرآة المستوية ؟  
1. معتدل  
2. مقلوب جانبياً  
3. مساو للجسم في أبعاده  
4. يكون بعده عن المرآة مساوياً لبُعد الجسم عنها

#### سؤال ؟

كيف يمكن رسم الخيال المتكوّن لجسم في المرآة المستوية ؟  
1. إسقاط شعاعين من نقطة على الجسم نحو المرآة .  
2. ثم رسم الأشعة المنعكسة لكل منهما حسب قانوني الانعكاس .  
3. ولأن الأشعة المنعكسة لا تلتقي ، لذا نرسم امتداد كل منهما خلف المرآة .  
4. يتكون خيال لبقية نقاط الجسم فنرى خيال الجسم كاملاً .  
5. يُعد الخيال وهمياً لأنه ناتج من امتدادات الأشعة المنعكسة فلا يتكون على حازر .



**سؤال ؟**

ما هي تطبيقات المرايا المستوية ؟

1. في المنازل والسيارات
2. تركيب العديد من الأجهزة مثل الكاميرا والمقراب الفلكي ( التلسكوب ) ومنظار الأفق ( البيرسكوب )

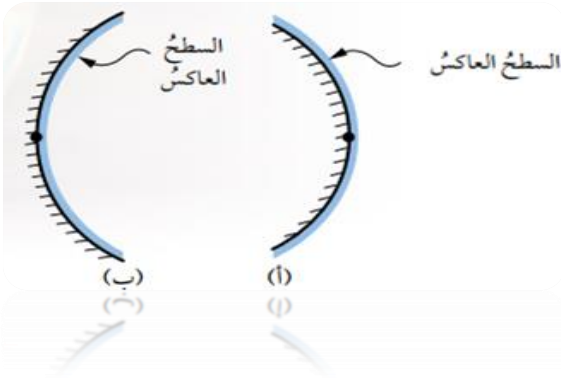
**سؤال ؟**

ما هي المرايا الكروية ؟

يُمثل سطحها العاكس جزءاً من سطح كرة مصقولة .

**سؤال ؟**

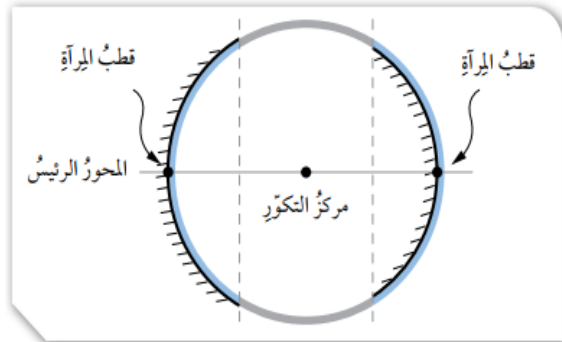
ما هي أنواع المرايا الكروية ؟



1. المرايا المحدبة : و سطحها العاكس هو السطح الخارجي للكرة المصقولة وتفرّق الأشعة الساقطة عليها .
2. المرايا المقعرة : سطحها العاكس هو السطح الداخلي لكرة مصقولة جوفاء وتُجمع الأشعة الساقطة عليها .

**سؤال ؟**

ما هي مكونات نظام المرآة الكروية ؟



1. مركز التكوّر ( م ) : هي مركز الكرة التي تُشكل المرآة جزءاً منها .
2. المحور الرئيس : هي الخط الذي يمتد من منتصف سطح المرآة الكروية ماراً بمركز التكوّر .
3. قطب المرآة : هي نقطة تقاطع المحور الرئيس مع سطح المرآة .

**سؤال ؟**

كيف يتكون الخيال في المرآة المقعرة ؟

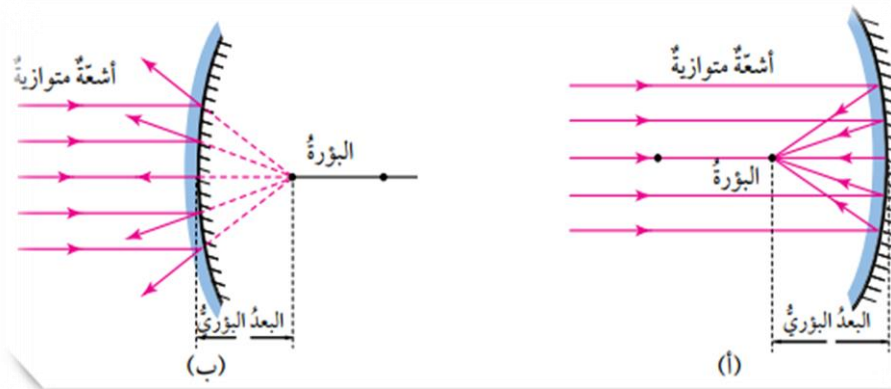
عند سقوط أشعة مستقيمة موازية للمحور الرئيس على السطح العاكس لمرآة مقعرة فإنها تنعكس عنها متجمعة في نقطة واحدة تسمى البؤرة وتوصف البؤرة بأنها حقيقية، لأن أشعة الضوء المنعكسة الأصلية تجمعت فيها .

**سؤال ؟**

كيف يتكون الخيال في المرآة المحدبة ؟

عند سقوط أشعة مستقيمة موازية للمحور الرئيس على مرآة محدبة ، فإنها تتشتت مبتعدة عن بعضها وتتجمع امتدادات هذه الأشعة في البؤرة وتوصف البؤرة بأنها وهمية لأن امتدادات الأشعة المنعكسة هي التي تجمعت فيها .

☺ يسمى بُعد البؤرة عن المرآة البعد البؤري .



سؤال ؟

ما هي استخدامات المرآة المقعرة ؟

يستخدمها طبيب الأسنان في بعض أدواته لإظهار صورة مكبرة للسن ليتمكن من فحصه بدقة .

سؤال ؟

ما هي استخدامات المرآة المحدبة ؟

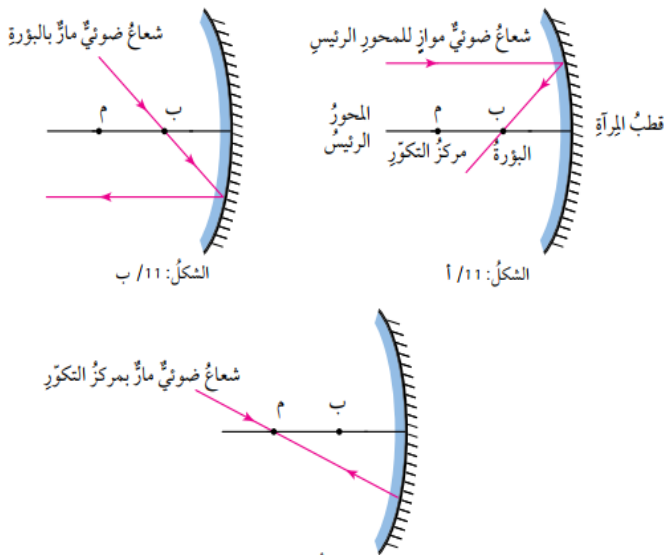
1. تستخدم على جوانب السيارات لإظهار أكبر مساحة ممكنة للسائق
2. تستخدم في الطرق المنحنية لتُظهر الجانب غير المرئي منها

سؤال ؟

ما هو قواعد رسم الأحيلة

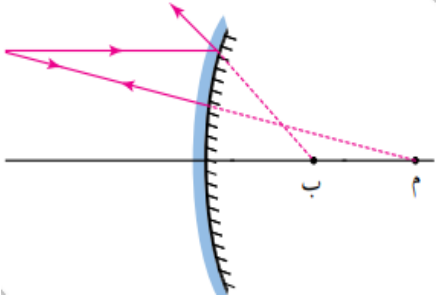
في مرآة مقعرة ؟

1. نرسم شعاع الساقط موازياً للمحور الرئيس للمرآة فينعكس عن سطحها ماراً بالبؤرة .
2. نرسم الساقط ماراً بالبؤرة فينعكس عن المرآة موازياً للمحور .
3. نرسم شعاع ساقط بحيث يمر في مركز التكور فينعكس على نفسه .



سؤال؟

ما هو قواعد رسم الأخيطة في مرآة محدبة؟



1. نرسم شعاع ساقط موازياً للمحور الرئيس للمرآة فينعكس بحيث يمر امتداده بالبؤرة .
2. نرسم شعاع ساقط بحيث يمر امتداده بمركز التكور فينعكس على نفسه .

يتكون الخيال المتكون للجسم في المرآة الكروية حقيقياً أو وهمياً ، معتدلاً أو مقلوباً ، مكبراً أو مصغراً أو مساوياً للجسم في أبعاده ، وهذا يعتمد على بُعد الجسم عن المرآة .

مثال 1

في الرسم المجاور، أرسم الخيال المتكون للجسم في المرآة المقعرة، وأحد صفاته.

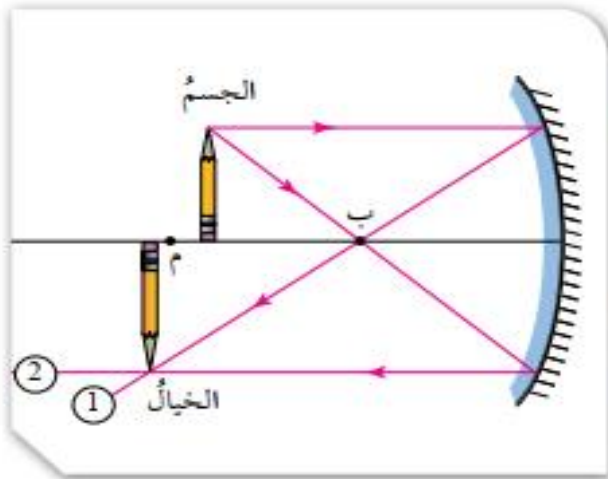
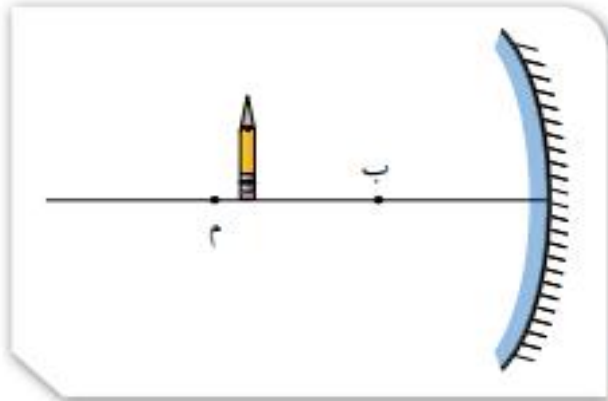
الحل:

لرسم الخيال وتحديد صفاته؛ أطبق قواعد رسم الخيال في المرآة المقعرة:

1. أسقط شعاعاً من رأس الجسم على المرآة موازياً للمحور الرئيس؛ فينعكس ماراً في البؤرة.

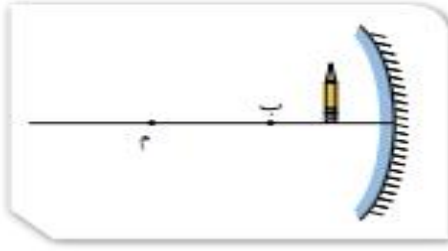
2. أسقط شعاعاً من رأس الجسم على المرآة ماراً بالبؤرة؛ فينعكس موازياً للمحور الرئيس.

3. يكون موقع خيال رأس الجسم عند موقع التقاء الشعاعين المنعكسين، ونسقط منها خطاً عمودياً على المحور الرئيس لرسم الخيال.



يكون الخيال: مكبراً، مقلوباً، حقيقياً.

مثال 2

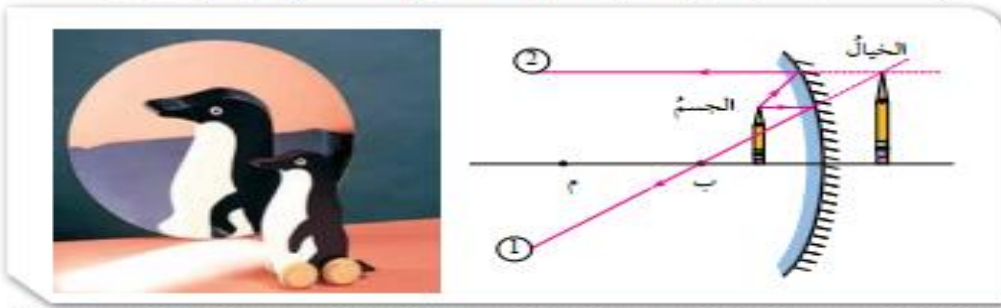


أكمل الرسم المجاور، برسم الخيال المتكوّن للجسم في المرآة المقعرة، وأحدّد صفاتيّه.

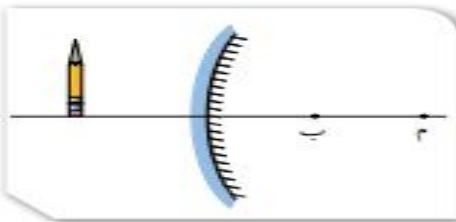
الحل:

لرسم الخيال وتحديد صفاتيّه؛ أطبّق قواعد رسم الخيال في المرآة المقعرة:

1. أسقط شعاعاً من رأس الجسم على المرآة موازياً للمحور الرئيسي؛ فينعكس مازاً في البؤرة.
  2. أسقط شعاعاً من رأس الجسم على المرآة وكأنه قادم من البؤرة؛ فينعكس موازياً للمحور الرئيسي.
  3. لا يلتقي الشعاعان المنعكسان؛ لذا، أرسّم امتداداً لكلٍ منهما.
  4. يكون موقع خيال رأس الجسم عند موقع التقاء امتدادي الشعاعين المنعكسين، وأسقط منه خطاً عمودياً على المحور الرئيسي لرسم الخيال.
- طول الخيال أكبر من طول الجسم؛ فالخيال المتكوّن مكبّر.
- اتجاه الخيال باتجاه الجسم نفيوه؛ فالخيال المتكوّن معتدل.
- وبما أنّ الخيال تكوّن من التقاء امتدادي الشعاعين المنعكسين؛ فيكون وهمياً.



مثال 3

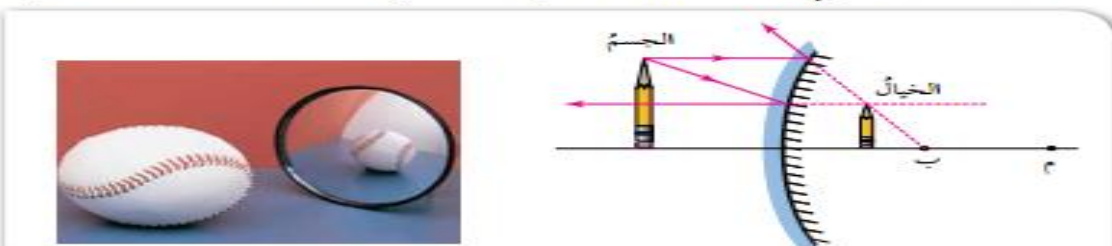


بناءً على الرسم المجاور، أرسّم الخيال المتكوّن للجسم في المرآة المحدّبة، وأحدّد صفاتيّه.

الحل:

لرسم الخيال وتحديد صفاتيّه؛ أطبّق قواعد رسم الخيال في المرآة المحدّبة:

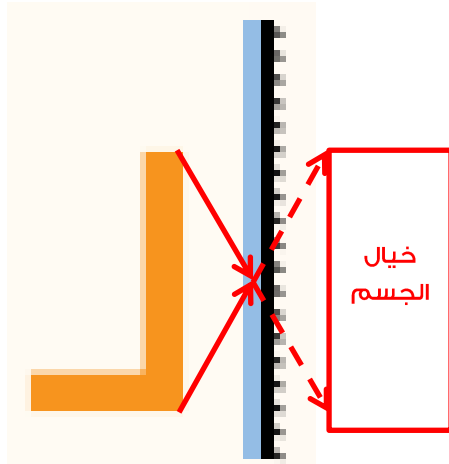
1. أسقط شعاعاً من رأس الجسم على المرآة موازياً للمحور الرئيسي؛ فينعكس بحيث يمرّ امتداداً في البؤرة.
  2. أسقط شعاعاً من رأس الجسم على المرآة نحو البؤرة؛ فينعكس عن سطح المرآة موازياً للمحور الرئيسي.
  3. لا يلتقي الشعاعان المنعكسان؛ لذا، أرسّم امتداداً لكلٍ منهما.
  4. يكون موقع خيال رأس الجسم عند موقع التقاء امتدادي الشعاعين المنعكسين، وأسقط منه خطاً عمودياً على المحور الرئيسي لرسم الخيال.
- يتكوّن الخيال عند موقع التقاء امتدادي الشعاعين المنعكسين. الخيال: مصغّر، معتدل، وهميّ.



1. أقرن بين صفات الخيال المتكون لجسم موضوع أمام مرآة مقعرة .

صفات الخيال			موضع الجسم
مكبر - مصغر - مساو	معتدل - مقلوب	حقيقي - وهمي	
مكبر	معتدل	وهمي	بين البؤرة والمرآة
مكبر	مقلوب	حقيقي	بين البؤرة ومركز التكوّر
مساو	مقلوب	حقيقي	في مركز التكوّر
مصغر	مقلوب	حقيقي	بعد مركز التكوّر

2. يبين الشكل المجاور جسماً موضوعاً أمام مرآة مستوية ، أرسم خيال الجسم المتكون في المرآة ، وأحدد صفاته .



1. أملأ كل فراغ في الجمل الآتية بما يناسبه :

- أ. الموجات التي لا تحتاج إلى وسط ناقل : **موجات كهرومغناطيسية**
- ب. خاصية الضوء التي تُسبب تكوّن الظلال للأجسام المعتمة : **ينتقل الضوء في خطوط مستقيمة**
- ج. سقوط أشعة ضوئية متوازية على سطح ما ، وانعكاسها باتجاهات مختلفة : **انعكاس الضوء**
- د. صفات الخيال المتكون في المرايا المحدبة : **مصغر ، وهمي ، معتدل**
- هـ. نقطة تقاطع السطح العاكس للمرآة مع المحور الرئيس : **قطب المرآة**



2. أختار رمز الإجابة الصحيحة في كل مما يأتي :

1- من خصائص الضوء :

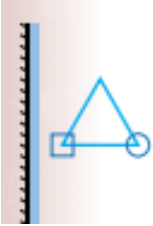
- (أ) **سرعته الكبيرة** (ب) انتقاله عبر الأجسام المعتمة  
(ج) انتقاله في خطوط منحنية (د) انعكاسه عن السطوح المصقولة فقط

2- الزاوية المحصورة بين الشعاع الساقط والعمود المقام على السطح العاكس ،

تسمى :

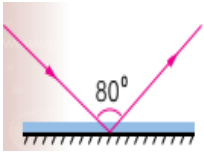
- (أ) زاوية قائمة (ب) زاوية الانعكاس  
(ج) **زاوية السقوط** (د) زاوية حادة

3- الشكل الصحيح الذي يمثل خيال الجسم في المرآة المستوية ، هو :



4- بناءً على الشكل المجاور ، فإن زاوية الانعكاس تساوي :

- (أ)  $100^\circ$  (ب)  $50^\circ$  (ج)  $80^\circ$  (د)  **$40^\circ$**



5- يكون الخيال المتكون لجسم ما في مرآة مستوية :

- (أ) **مقلوباً جانبياً** (ب) حقيقياً (ج) مكبراً (د) مقلوباً رأسياً

6- يتكون للجسم خيال مكبر إذا وضع أمام :

- (أ) مرآة محدبة (ب) **مرآة مقعرة** (ج) مرآة مستوية (د) أنواع المرايا جميعها

7- الشعاع الساقط على المرآة المقعرة موازياً لمحورها الرئيس ينعكس :

- (أ) ماراً في مركز تكورها (ب) على نفسه  
(ج) **ماراً في البؤرة** (د) بحيث يمر امتداده في البؤرة

8- إحدى الآتية ليست من أقسام الطيف الكهرمغناطيسي :

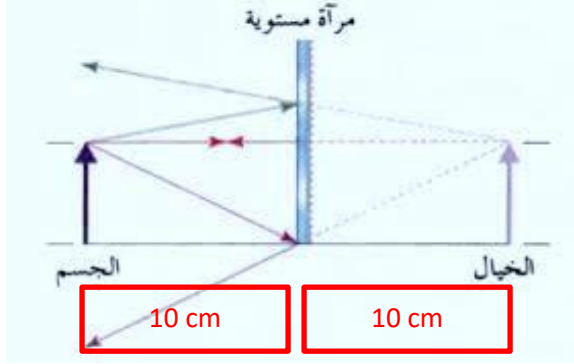
- (أ) الضوء الأخضر (ب) الأشعة السينية (ج) موجات الراديو (د) **موجات الصوت**



3. المهارات العلمية :

1- وضع جسم طوله 5cm أمام مرآة مستوية وعلى بُعد 10cm منها ، أرسم المرآة والجسم والخيال المتكون له ، وأحدد صفات الخيال .

صفات الخيال :  
معتدل  
وهمي  
مساو للجسم  
بُعد الجسم عن المرآة  
يساوي بُعد الخيال عن  
المرآة



2- أقرن بين الانعكاس المنتظم والانعكاس غير المنتظم ، من حيث السطح العاكس والأشعة المنعكسة .

من حيث	الانعكاس المنتظم	الانعكاس غير المنتظم
السطح العاكس	سطح مصقول	سطوح خشنة (غير مصقولة)
الأشعة المنعكسة	تنعكس باتجاه واحد متوازية مع بعضها	تنعكس باتجاهات مختلفة

3- أفسر كلا مما يأتي :

- وجود بؤرة وهمية للمرآة المحدبة .

لأن امتدادات الأشعة المنعكسة هي التي تجمعت فيها .

-عدم تكون خيال لجسم موضوع أمام لوح من الخشب على الرغم من انعكاس الضوء عنه .

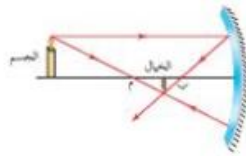
لأن الأشعة المنعكسة لما تلتقي معاً ، والخشب جسم معتم .

- سبب كتابة كلمة ( إسعاف ) بشكل مقلوب جانبياً على مقدمة سيارات الإسعاف .

حتى يتمكن السائقين الذين يقودون مركبات أمامها من رؤيتها مكتوبة بالشكل الصحيح في مرآتهم الجانبية وإفساح الطريق لهم .



4. أستنتج سبب رؤية النجوم ، على الرغم من الفراغ الذي يفصل بيننا .  
لأن الضوء ينتقل على شكل موجات تنتشر في الاتجاهات جميعها دون الحاجة إلى وسط ناقل .
5. أقترح حلًا لمشكلة عدم تمكن السائقين من رؤية القادم من الجهة الأخرى عند المنعطفات في كراجات السيارات .  
وضع مرآة محدبة عند المنعطفات
6. أحدد صفات الخيال المتكون لجسم موضوع أمام مرآة مقعرة ، عند مركز تكورها.  
حقيقي ، مقلوب ، مساوي للجسم ، الخيال متكون في مركز التكور
7. أوضح المقصود بالانعكاس .  
هو ارتداد الضوء عن سطح ما عند سقوطه عليه .
8. أصمم لوحة تُظهر قانون الانعكاس الثاني ، في الانعكاس المنتظم وغير المنتظم.  
يترك للطالب
9. يقف محمود أمام مرآة مستوية ، فإذا كان بُعد خياله عنه يساوي 6m ، أجد :  
أ) بُعد محمود عن المرآة .  
3m  
ب) كم يُصبح بُعد خياله ، إذا اقترب من المرآة مسافة 0.5m .  
5.5m
10. أستنتج الصفة الملازمة للخيال الوهمي في المرايا جميعها .  
معتدل
11. بناءً على الرسم المجاور ، ارسم مخطط الأشعة للجسم ، وأستنتج منه صفات الخيال المتكون له في المرآة .



صفات الخيال المتكون : ١- حقيقي ٢- مقلوب ٣- مصغر



12. أعدد 3 من أقسام الطيف الكهرمغناطيسي .  
أشعة تحت الحمراء – موجات الراديو – موجات المايكرويف
13. أقرن بين مواقع الجسم المختلفة لجسم موضوع أمام مرآة مقعرة والخيال المتكون له فيها ، من حيث وضعية الخيال ( معتدل أم مقلوب ) .
- أ. إذا وضع الجسم على بُعد أكبر من مثلي البُعد البؤري : مقلوب  
ب. إذا كان الجسم في مركز التكور : مقلوب  
ج. إذا كان الجسم في البؤرة : لا يتكون خيال  
د. إذا كان الجسم بين البؤرة ومركز التكور : مقلوب  
هـ. إذا كان الجسم على بُعد أقل من البُعد البؤري : معتدل